
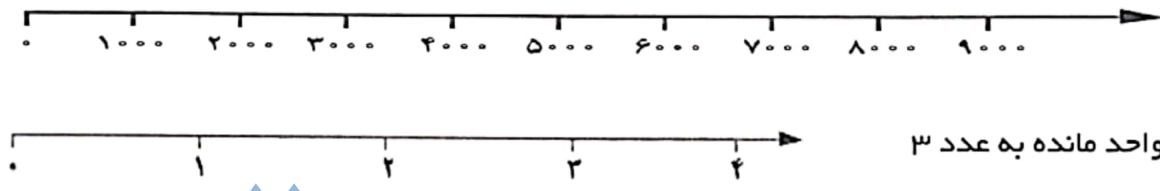



شماره	صورت سوال														
۱	<p>نام و نام خانوادگی: آزمون نوبت اول ریاضی سوم دبستان ۱۴۰۱-۱۴۰۲ معلم: خانم روحی</p> <p>به حروف یا عدد بنویس.</p> <p>دو هزار و چهارده:.....</p> <p>۳۶۱۷ :</p>  <table border="1" data-bbox="963 394 1390 514"> <tr> <td>یکان</td> <td>دهگان</td> <td>صدگان</td> <td>هزارگان</td> </tr> <tr> <td></td> <td></td> <td></td> <td></td> </tr> </table> <p>به حروف: به رقم:</p>	یکان	دهگان	صدگان	هزارگان										
یکان	دهگان	صدگان	هزارگان												
۲	<p>مقایسه کن:</p> <p>۲۴۵۰ <input type="radio"/> ۲۰۴۵ ۱۴۰۰ ریال <input type="radio"/> ۲۵۰ تومان ۲ متر <input type="radio"/> ۱۸۰ سانتی‌متر</p> <p>۲۶۰۰ گرم <input type="radio"/> ۲ کیلو و ۶۰۰ گرم دو واحد و $\frac{1}{3}$ واحد <input type="radio"/> یک واحد و $\frac{1}{2}$ واحد</p>														
۳	<p>جاهای خالی را کامل کن:</p> <p>..... یعنی ۲ یکی و ۳ صدتایی و ۴ هزارتایی.</p> <p>۲۶۰ تومان یعنی ریال</p> <p>۴ سانتی متر و ۵ میلی متر یعنی میلی متر</p> <p>۱۵۸ سانتی متر یعنی متر و سانتی متر</p> <p>۸۰۱۲ متر یعنی کیلومتر و متر.</p> <p>وسیله اندازه گیری زاویه راست نام دارد.</p> <p>یک قطر از شعاع درست شده است.</p>														
۴	<p>الگوها را ادامه بده:</p> <p>۱، ۳، ۶، ۱۰،،،،، ۲۲۰۰، ۲۴۰۰، ۲۶۰۰</p> <p>۶۵۴۵، ۶۶۴۵، ۶۷۴۵،،،،، ۹۳۲، ۹۴۲، ۹۵۲</p> <p>۱۱۰۰، ۱۳۰۰، ۱۵۰۰،،،،، ۷۲۵، ۷۳۰، ۷۳۵</p>														
۵	<p>ماشین ها را کامل کن:</p> <table border="1" data-bbox="186 1669 552 1900"> <tr> <td>۸</td> <td rowspan="3">→ +۱۲</td> <td></td> </tr> <tr> <td></td> <td>۲۱</td> </tr> <tr> <td>۱۹</td> <td></td> </tr> </table> <table border="1" data-bbox="706 1669 1031 1932"> <tr> <td>۲۴</td> <td rowspan="3">→ -۶</td> <td></td> </tr> <tr> <td></td> <td>۴۰</td> </tr> <tr> <td>۱۵</td> <td>۲۳</td> </tr> </table>	۸	→ +۱۲			۲۱	۱۹		۲۴	→ -۶			۴۰	۱۵	۲۳
۸	→ +۱۲														
		۲۱													
۱۹															
۲۴	→ -۶														
		۴۰													
۱۵		۲۳													

<p>تمام عددهای چهاررقمی که رقم یکان ۲، رقم دهگان ۳ و ۴، رقم صدگان ۵ و ۶ و ۰ و رقم هزارگان ۷ باشد بنویس.</p>	۶
<p>کوچکترین عددی که ساختی کدام است؟ ✓</p>	۷
<p>جایگاه عددهای زیر را روی محور نشان بده: $۱۴۴۵ - ۲۷۳۲ - ۴۶۹۸ - ۱۱۴$</p>  <p>این جایگاه یعنی — واحد بعد از عدد ساعت : بعد از ظهر یا : است. یا مانده به ساعت ۷ است. عقربه بزرگ از ساعت ۶ چه کسری از ساعت را طی کرده است؟ — ساعت چه کسری از ساعت به ساعت ۷ مانده است؟ — ساعت</p>	۸
<p>طول مداد از سانتی متر بیشتر و سانتی متر کمتر است. طول مداد سانتی متر و میلی متر است، یعنی طول مداد میلی متر است. طول مداد سانتی متر و — سانتی متر است.</p> 	۹
<p>پدر علی و محمد به هر کدام مقدار مساوی پول داد. اگر علی $\frac{2}{3}$ پولش و محمد $\frac{2}{4}$ پولش را صدقه دهند، کدامیک مقداری بیشتری صدقه داده است؟</p>	۱۰

۱۱	<p>در یک مغازه گل‌فروشی یک کمد دیواری ۶ قفسه دارد. در هر قفسه ۵ گلدان وجود دارد. در هر گلدان ۲ گل وجود دارد.</p> <p>✓ در دو قفسه این کمد چند گل وجود دارد؟</p> <p>✓ در سه قفسه این کمد چند گلدان وجود دارد؟</p> <p>✓ الگوی بین گلدان‌ها در هر قفسه را بنویس.</p> <p>✓ هر یک قفسه که پایین می‌آییم الگوی بین گل‌ها را بنویس.</p>
۱۲	<p>۱ دلار کشوری به اندازه ۱۳۰۰ تومان ارزش دارد. ۳ دلار ارزش بیشتری دارد یا ۳۰۰۰ تومان؟</p>
۱۳	<p>مادر سارا خیاط است. او یک پارچه مستطیل شکل را به دو قسمت مساوی تقسیم کرد. با یک قسمت آن پیراهن دوخت. نیمه دیگر را به ۲ قسمت مساوی تقسیم کرد و با یک نیمه آن روسری دوخت. با قسمت از قسمت مساوی پیراهن دوخته است.</p> <p>با قسمت از قسمت مساوی روسری دوخته است.</p>
۱۴	<p><u>ضرب‌های زیر را با هر روشی دوست داری حساب کن:</u></p> <p>$۵ \times ۲ =$</p> <p>$۳ \times ۶ =$</p>

باید بیشتر تلاش می‌کردم.

خودسنجی: از آزمونم راضی بودم

هدف	خ	خ	ق	ق	ن	ن
تقریب						
کسر روی ساعت و ساعت						
کسر روی اندازه گیری						
مقایسه کسر						
حل مسئله های متنی						

هدف	خ	خ	ق	ق	ن	ن
عدد نویسی						
مقایسه اعداد و کسرها						
تبدیل واحد						
الگویابی						
ماترین ها						

باز خورد معلم: